



Ce document a été mis en ligne par l'organisme [FormaV®](#)

Toute reproduction, représentation ou diffusion, même partielle, sans autorisation préalable, est strictement interdite.

Pour en savoir plus sur nos formations disponibles, veuillez visiter :

www.formav.co/explorer

BREVET DE TECHNICIEN SUPÉRIEUR AGRICOLE

ÉPREUVE E4

TRAITEMENT DE DONNÉES

Toutes options

Durée : 3 heures

Matériel(s) et document(s) autorisé(s) : **Calculatrice**

Rappel : Au cours de l'épreuve, la calculatrice est autorisée pour réaliser des opérations de calcul, ou bien élaborer une programmation, à partir des données fournies par le sujet.

Tout autre usage est interdit.

Le sujet comporte **6** pages

EXERCICE 1 : **9 points**

EXERCICE 2 : **5 points**

EXERCICE 3 : **6 points**

SUJET

Les exercices sont indépendants.

EXERCICE 1 (9 points)

Une entreprise fabriquant des jus de fruits réalise une étude de filtrabilité pour évaluer sa capacité de production.

Après pressage des fruits, le jus de fruit brut filtré permet d'obtenir le filtrat.

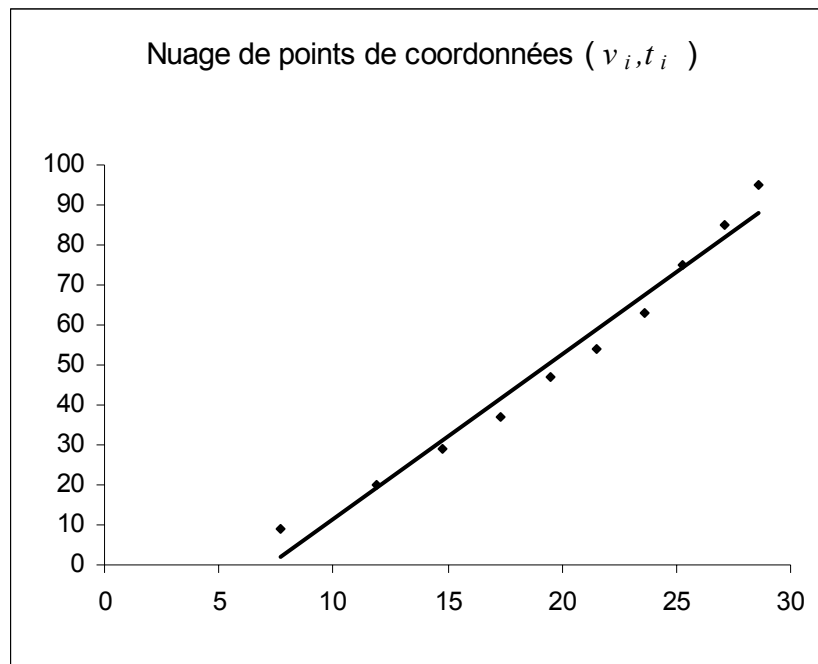
On note T le temps de filtrage et V le volume de filtrat recueilli.

Le temps est exprimé en secondes et le volume en centilitres.

Les résultats obtenus figurent dans le tableau suivant :

| | | | | | | | | | | |
|--------------|-----|------|------|------|------|------|------|------|------|------|
| Volume v_i | 7,7 | 11,9 | 14,8 | 17,3 | 19,5 | 21,5 | 23,6 | 25,3 | 27,1 | 28,6 |
| Temps t_i | 9 | 20 | 29 | 37 | 47 | 54 | 63 | 75 | 85 | 95 |

1. Le nuage de points de la série (v_i, t_i) et la droite d'ajustement de T en V obtenue par la méthode des moindres carrés sont représentés ci-après :



Expliquer pourquoi l'ajustement linéaire est mal adapté à cette situation.

2. On pose $Z = \frac{T}{V}$

Dans cette question, les résultats seront arrondis à 10^{-3} près.

- Construire le tableau de la nouvelle série (v_i, z_i) .
 - Construire le nuage de points de cette série dans un plan muni d'un repère orthogonal.
 - Donner, à l'aide de la calculatrice, le coefficient de corrélation linéaire entre les variables V et Z .
 - Déterminer, par la méthode des moindres carrés, une équation de la droite d'ajustement de Z en V .
 - Pour tout entier i de 1 à 10, calculer les résidus e_i définis par $e_i = z_i - \hat{z}_i$ où \hat{z}_i est une estimation de z_i obtenue à l'aide du modèle obtenu en **d**.
 - Dans la suite de l'exercice, on retient l'ajustement linéaire entre les variables V et Z . Justifier ce choix.
3. Dédurre de la question **2d**. une relation entre t et v sous la forme $t = f(v)$.
4. L'entreprise souhaite commercialiser son jus de fruit en bouteilles de 33 cl. Déterminer une estimation du temps de filtrage pour une de ces bouteilles.

EXERCICE 2 (5 points)

Un industriel recherche un mélange de variétés de pommes donnant un jus adapté au marché.

Pour cela, il réalise trois mélanges différents et les fait évaluer par 200 consommateurs.

Les résultats sont consignés dans le tableau ci-dessous :

| Mélange \ Appréciation | Appréciation | | |
|------------------------|--------------|-----|----------|
| | Médiocre | Bon | Très Bon |
| Mélange A | 35 | 25 | 15 |
| Mélange B | 5 | 10 | 47 |
| Mélange C | 4 | 13 | 46 |

Peut-on considérer, au seuil de risque 0,05, que l'appréciation des consommateurs dépend de la nature du mélange ?

EXERCICE 3 (6 points)

Les parties A et B sont indépendantes.

L'entreprise souhaite réaliser un contrôle sur le remplissage des bouteilles de 33 cl.

On note X la variable aléatoire prenant pour valeur le volume, exprimé en centilitres, d'une bouteille.

On admet que la variable aléatoire X est distribuée suivant une loi normale de moyenne μ et d'écart-type σ .

Partie A

Afin d'obtenir une estimation du volume moyen μ de la population, on prélève sur la production un échantillon aléatoire simple de 16 bouteilles pour lesquelles on détermine le volume.

Les résultats, exprimés en centilitres, sont les suivants :

| | | | | | | | |
|------|------|------|------|------|------|------|------|
| 32,8 | 31,8 | 34,6 | 33,9 | 34,1 | 32,9 | 32,4 | 32,9 |
| 32,7 | 33,3 | 33,7 | 34 | 32,5 | 32,8 | 33,1 | 33,2 |

Dans les questions suivantes, les résultats seront arrondis à 10^{-1} près.

1. Déterminer une estimation ponctuelle du volume moyen μ .
2. Déterminer une estimation par intervalle de confiance de μ au niveau de confiance 0,95.

Partie B

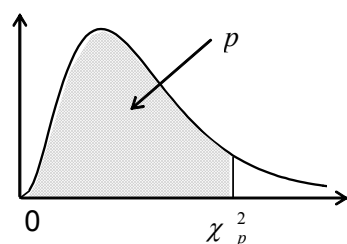
On considère dans cette partie que $\mu = 33$ et $\sigma = 2$.

On note \bar{X} la variable aléatoire prenant pour valeur le volume moyen des bouteilles dans les échantillons de taille 16 extraits de la production.

1. Quelle est la loi de probabilité de la variable aléatoire \bar{X} ? Préciser les paramètres de \bar{X} .
2. Quelle est la probabilité que le volume moyen de 16 bouteilles soit inférieur à 31,8 cl ?

Fonction de répartition d'une variable du Khi2 à k degrés de liberté

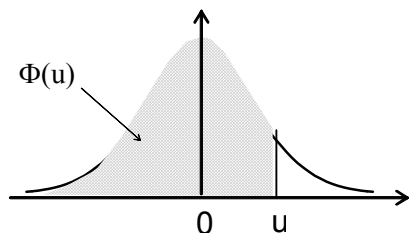
Valeurs χ^2_p telles que $\text{Prob}(\chi^2 \leq \chi^2_p) = p$



| k \ p | 0,005 | 0,010 | 0,025 | 0,050 | 0,100 | 0,900 | 0,950 | 0,975 | 0,990 | 0,995 |
|-------|-------|-------|-------|-------|-------|--------|--------|--------|--------|--------|
| 1 | 0,000 | 0,000 | 0,001 | 0,004 | 0,02 | 2,71 | 3,84 | 5,02 | 6,63 | 7,88 |
| 2 | 0,01 | 0,02 | 0,05 | 0,10 | 0,21 | 4,61 | 5,99 | 7,38 | 9,21 | 10,60 |
| 3 | 0,07 | 0,11 | 0,22 | 0,35 | 0,58 | 6,25 | 7,81 | 9,35 | 11,34 | 12,84 |
| 4 | 0,21 | 0,30 | 0,48 | 0,71 | 1,06 | 7,78 | 9,49 | 11,14 | 13,28 | 14,86 |
| 5 | 0,41 | 0,55 | 0,83 | 1,15 | 1,61 | 9,24 | 11,07 | 12,83 | 15,09 | 16,75 |
| 6 | 0,68 | 0,87 | 1,24 | 1,64 | 2,20 | 10,64 | 12,59 | 14,45 | 16,81 | 18,55 |
| 7 | 0,99 | 1,24 | 1,69 | 2,17 | 2,83 | 12,02 | 14,07 | 16,01 | 18,48 | 20,28 |
| 8 | 1,34 | 1,65 | 2,18 | 2,73 | 3,49 | 13,36 | 15,51 | 17,53 | 20,09 | 21,95 |
| 9 | 1,73 | 2,09 | 2,70 | 3,33 | 4,17 | 14,68 | 16,92 | 19,02 | 21,67 | 23,59 |
| 10 | 2,16 | 2,56 | 3,25 | 3,94 | 4,87 | 15,99 | 18,31 | 20,48 | 23,21 | 25,19 |
| 11 | 2,60 | 3,05 | 3,82 | 4,57 | 5,58 | 17,28 | 19,68 | 21,92 | 24,73 | 26,76 |
| 12 | 3,07 | 3,57 | 4,40 | 5,23 | 6,30 | 18,55 | 21,03 | 23,34 | 26,22 | 28,30 |
| 13 | 3,57 | 4,11 | 5,01 | 5,89 | 7,04 | 19,81 | 22,36 | 24,74 | 27,69 | 29,82 |
| 14 | 4,07 | 4,66 | 5,63 | 6,57 | 7,79 | 21,06 | 23,68 | 26,12 | 29,14 | 31,32 |
| 15 | 4,60 | 5,23 | 6,26 | 7,26 | 8,55 | 22,31 | 25,00 | 27,49 | 30,58 | 32,80 |
| 16 | 5,14 | 5,81 | 6,91 | 7,96 | 9,31 | 23,54 | 26,30 | 28,85 | 32,00 | 34,27 |
| 17 | 5,70 | 6,41 | 7,56 | 8,67 | 10,09 | 24,77 | 27,59 | 30,19 | 33,41 | 35,72 |
| 18 | 6,26 | 7,01 | 8,23 | 9,39 | 10,86 | 25,99 | 28,87 | 31,53 | 34,81 | 37,16 |
| 19 | 6,84 | 7,63 | 8,91 | 10,12 | 11,65 | 27,20 | 30,14 | 32,85 | 36,19 | 38,58 |
| 20 | 7,43 | 8,26 | 9,59 | 10,85 | 12,44 | 28,41 | 31,41 | 34,17 | 37,57 | 40,00 |
| 21 | 8,03 | 8,90 | 10,28 | 11,59 | 13,24 | 29,62 | 32,67 | 35,48 | 38,93 | 41,40 |
| 22 | 8,64 | 9,54 | 10,98 | 12,34 | 14,04 | 30,81 | 33,92 | 36,78 | 40,29 | 42,80 |
| 23 | 9,26 | 10,20 | 11,69 | 13,09 | 14,85 | 32,01 | 35,17 | 38,08 | 41,64 | 44,18 |
| 24 | 9,89 | 10,86 | 12,40 | 13,85 | 15,66 | 33,20 | 36,42 | 39,36 | 42,98 | 45,56 |
| 25 | 10,52 | 11,52 | 13,12 | 14,61 | 16,47 | 34,38 | 37,65 | 40,65 | 44,31 | 46,93 |
| 26 | 11,16 | 12,20 | 13,84 | 15,38 | 17,29 | 35,56 | 38,89 | 41,92 | 45,64 | 48,29 |
| 27 | 11,81 | 12,88 | 14,57 | 16,15 | 18,11 | 36,74 | 40,11 | 43,19 | 46,96 | 49,65 |
| 28 | 12,46 | 13,56 | 15,31 | 16,93 | 18,94 | 37,92 | 41,34 | 44,46 | 48,28 | 50,99 |
| 29 | 13,12 | 14,26 | 16,05 | 17,71 | 19,77 | 39,09 | 42,56 | 45,72 | 49,59 | 52,34 |
| 30 | 13,79 | 14,95 | 16,79 | 18,49 | 20,60 | 40,26 | 43,77 | 46,98 | 50,89 | 53,67 |
| 35 | 17,19 | 18,51 | 20,57 | 22,47 | 24,80 | 46,06 | 49,80 | 53,20 | 57,34 | 60,27 |
| 40 | 20,71 | 22,16 | 24,43 | 26,51 | 29,05 | 51,81 | 55,76 | 59,34 | 63,69 | 66,77 |
| 45 | 24,31 | 25,90 | 28,37 | 30,61 | 33,35 | 57,51 | 61,66 | 65,41 | 69,96 | 73,17 |
| 50 | 27,99 | 29,71 | 32,36 | 34,76 | 37,69 | 63,17 | 67,50 | 71,42 | 76,15 | 79,49 |
| 60 | 35,53 | 37,48 | 40,48 | 43,19 | 46,46 | 74,40 | 79,08 | 83,30 | 88,38 | 91,95 |
| 70 | 43,28 | 45,44 | 48,76 | 51,74 | 55,33 | 85,53 | 90,53 | 95,02 | 100,43 | 104,21 |
| 80 | 51,17 | 53,54 | 57,15 | 60,39 | 64,28 | 96,58 | 101,88 | 106,63 | 112,33 | 116,32 |
| 90 | 59,20 | 61,75 | 65,65 | 69,13 | 73,29 | 107,57 | 113,15 | 118,14 | 124,12 | 128,30 |
| 100 | 67,33 | 70,06 | 74,22 | 77,93 | 82,36 | 118,50 | 124,34 | 129,56 | 135,81 | 140,17 |

Fonction de répartition de la variable normale centrée réduite

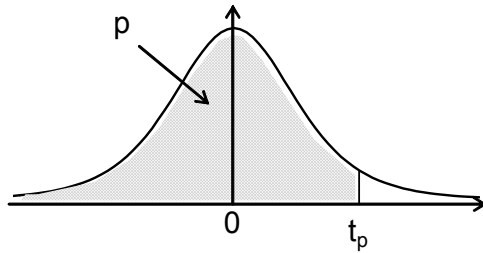
$$\Phi(u) = \text{Prob}(U \leq u)$$



| u | 0 | 1 | 2 | 3 | 4 | 5 | 6 | 7 | 8 | 9 |
|-----|--------|--------|--------|--------|--------|--------|--------|--------|--------|--------|
| 0,0 | 0,5000 | 0,5040 | 0,5080 | 0,5120 | 0,5160 | 0,5199 | 0,5239 | 0,5279 | 0,5319 | 0,5359 |
| 0,1 | 0,5398 | 0,5438 | 0,5478 | 0,5517 | 0,5557 | 0,5596 | 0,5636 | 0,5675 | 0,5714 | 0,5753 |
| 0,2 | 0,5793 | 0,5832 | 0,5871 | 0,5910 | 0,5948 | 0,5987 | 0,6026 | 0,6064 | 0,6103 | 0,6141 |
| 0,3 | 0,6179 | 0,6217 | 0,6255 | 0,6293 | 0,6331 | 0,6368 | 0,6406 | 0,6443 | 0,6480 | 0,6517 |
| 0,4 | 0,6554 | 0,6591 | 0,6628 | 0,6664 | 0,6700 | 0,6736 | 0,6772 | 0,6808 | 0,6844 | 0,6879 |
| 0,5 | 0,6915 | 0,6950 | 0,6985 | 0,7019 | 0,7054 | 0,7088 | 0,7123 | 0,7157 | 0,7190 | 0,7224 |
| 0,6 | 0,7257 | 0,7291 | 0,7324 | 0,7357 | 0,7389 | 0,7422 | 0,7454 | 0,7486 | 0,7517 | 0,7549 |
| 0,7 | 0,7580 | 0,7611 | 0,7642 | 0,7673 | 0,7704 | 0,7734 | 0,7764 | 0,7794 | 0,7823 | 0,7852 |
| 0,8 | 0,7881 | 0,7910 | 0,7939 | 0,7967 | 0,7995 | 0,8023 | 0,8051 | 0,8078 | 0,8106 | 0,8133 |
| 0,9 | 0,8159 | 0,8186 | 0,8212 | 0,8238 | 0,8264 | 0,8289 | 0,8315 | 0,8340 | 0,8365 | 0,8389 |
| 1,0 | 0,8413 | 0,8438 | 0,8461 | 0,8485 | 0,8508 | 0,8531 | 0,8554 | 0,8577 | 0,8599 | 0,8621 |
| 1,1 | 0,8643 | 0,8665 | 0,8686 | 0,8708 | 0,8729 | 0,8749 | 0,8770 | 0,8790 | 0,8810 | 0,8830 |
| 1,2 | 0,8849 | 0,8869 | 0,8888 | 0,8907 | 0,8925 | 0,8944 | 0,8962 | 0,8980 | 0,8997 | 0,9015 |
| 1,3 | 0,9032 | 0,9049 | 0,9066 | 0,9082 | 0,9099 | 0,9115 | 0,9131 | 0,9147 | 0,9162 | 0,9177 |
| 1,4 | 0,9192 | 0,9207 | 0,9222 | 0,9236 | 0,9251 | 0,9265 | 0,9279 | 0,9292 | 0,9306 | 0,9319 |
| 1,5 | 0,9332 | 0,9345 | 0,9357 | 0,9370 | 0,9382 | 0,9394 | 0,9406 | 0,9418 | 0,9429 | 0,9441 |
| 1,6 | 0,9452 | 0,9463 | 0,9474 | 0,9484 | 0,9495 | 0,9505 | 0,9515 | 0,9525 | 0,9535 | 0,9545 |
| 1,7 | 0,9554 | 0,9564 | 0,9573 | 0,9582 | 0,9591 | 0,9599 | 0,9608 | 0,9616 | 0,9625 | 0,9633 |
| 1,8 | 0,9641 | 0,9649 | 0,9656 | 0,9664 | 0,9671 | 0,9678 | 0,9686 | 0,9693 | 0,9699 | 0,9706 |
| 1,9 | 0,9713 | 0,9719 | 0,9726 | 0,9732 | 0,9738 | 0,9744 | 0,9750 | 0,9756 | 0,9761 | 0,9767 |
| 2,0 | 0,9772 | 0,9778 | 0,9783 | 0,9788 | 0,9793 | 0,9798 | 0,9803 | 0,9808 | 0,9812 | 0,9817 |
| 2,1 | 0,9821 | 0,9826 | 0,9830 | 0,9834 | 0,9838 | 0,9842 | 0,9846 | 0,9850 | 0,9854 | 0,9857 |
| 2,2 | 0,9861 | 0,9864 | 0,9868 | 0,9871 | 0,9875 | 0,9878 | 0,9881 | 0,9884 | 0,9887 | 0,9890 |
| 2,3 | 0,9893 | 0,9896 | 0,9898 | 0,9901 | 0,9904 | 0,9906 | 0,9909 | 0,9911 | 0,9913 | 0,9916 |
| 2,4 | 0,9918 | 0,9920 | 0,9922 | 0,9925 | 0,9927 | 0,9929 | 0,9931 | 0,9932 | 0,9934 | 0,9936 |
| 2,5 | 0,9938 | 0,9940 | 0,9941 | 0,9943 | 0,9945 | 0,9946 | 0,9948 | 0,9949 | 0,9951 | 0,9952 |
| 2,6 | 0,9953 | 0,9955 | 0,9956 | 0,9957 | 0,9959 | 0,9960 | 0,9961 | 0,9962 | 0,9963 | 0,9964 |
| 2,7 | 0,9965 | 0,9966 | 0,9967 | 0,9968 | 0,9969 | 0,9970 | 0,9971 | 0,9972 | 0,9973 | 0,9974 |
| 2,8 | 0,9974 | 0,9975 | 0,9976 | 0,9977 | 0,9977 | 0,9978 | 0,9979 | 0,9979 | 0,9980 | 0,9981 |
| 2,9 | 0,9981 | 0,9982 | 0,9982 | 0,9983 | 0,9984 | 0,9984 | 0,9985 | 0,9985 | 0,9986 | 0,9986 |
| 3,0 | 0,9987 | 0,9987 | 0,9987 | 0,9988 | 0,9988 | 0,9989 | 0,9989 | 0,9989 | 0,9990 | 0,9990 |

Fonction de répartition d'une variable de Student à k degrés de liberté.

Valeurs t_p telles que $\text{Prob}(T \leq t_p) = p$



| $k \backslash p$ | 0,90 | 0,95 | 0,975 | 0,99 | 0,995 | 0,999 | 0,9995 |
|------------------|------|------|-------|-------|-------|--------|--------|
| 1 | 3,08 | 6,31 | 12,71 | 31,82 | 63,66 | 318,29 | 636,58 |
| 2 | 1,89 | 2,92 | 4,30 | 6,96 | 9,92 | 22,33 | 31,60 |
| 3 | 1,64 | 2,35 | 3,18 | 4,54 | 5,84 | 10,21 | 12,92 |
| 4 | 1,53 | 2,13 | 2,78 | 3,75 | 4,60 | 7,17 | 8,61 |
| 5 | 1,48 | 2,02 | 2,57 | 3,36 | 4,03 | 5,89 | 6,87 |
| 6 | 1,44 | 1,94 | 2,45 | 3,14 | 3,71 | 5,21 | 5,96 |
| 7 | 1,41 | 1,89 | 2,36 | 3,00 | 3,50 | 4,79 | 5,41 |
| 8 | 1,40 | 1,86 | 2,31 | 2,90 | 3,36 | 4,50 | 5,04 |
| 9 | 1,38 | 1,83 | 2,26 | 2,82 | 3,25 | 4,30 | 4,78 |
| 10 | 1,37 | 1,81 | 2,23 | 2,76 | 3,17 | 4,14 | 4,59 |
| 11 | 1,36 | 1,80 | 2,20 | 2,72 | 3,11 | 4,02 | 4,44 |
| 12 | 1,36 | 1,78 | 2,18 | 2,68 | 3,05 | 3,93 | 4,32 |
| 13 | 1,35 | 1,77 | 2,16 | 2,65 | 3,01 | 3,85 | 4,22 |
| 14 | 1,35 | 1,76 | 2,14 | 2,62 | 2,98 | 3,79 | 4,14 |
| 15 | 1,34 | 1,75 | 2,13 | 2,60 | 2,95 | 3,73 | 4,07 |
| 16 | 1,34 | 1,75 | 2,12 | 2,58 | 2,92 | 3,69 | 4,01 |
| 17 | 1,33 | 1,74 | 2,11 | 2,57 | 2,90 | 3,65 | 3,97 |
| 18 | 1,33 | 1,73 | 2,10 | 2,55 | 2,88 | 3,61 | 3,92 |
| 19 | 1,33 | 1,73 | 2,09 | 2,54 | 2,86 | 3,58 | 3,88 |
| 20 | 1,33 | 1,72 | 2,09 | 2,53 | 2,85 | 3,55 | 3,85 |
| 21 | 1,32 | 1,72 | 2,08 | 2,52 | 2,83 | 3,53 | 3,82 |
| 22 | 1,32 | 1,72 | 2,07 | 2,51 | 2,82 | 3,50 | 3,79 |
| 23 | 1,32 | 1,71 | 2,07 | 2,50 | 2,81 | 3,48 | 3,77 |
| 24 | 1,32 | 1,71 | 2,06 | 2,49 | 2,80 | 3,47 | 3,75 |
| 25 | 1,32 | 1,71 | 2,06 | 2,49 | 2,79 | 3,45 | 3,73 |
| 26 | 1,31 | 1,71 | 2,06 | 2,48 | 2,78 | 3,43 | 3,71 |
| 27 | 1,31 | 1,70 | 2,05 | 2,47 | 2,77 | 3,42 | 3,69 |
| 28 | 1,31 | 1,70 | 2,05 | 2,47 | 2,76 | 3,41 | 3,67 |
| 29 | 1,31 | 1,70 | 2,05 | 2,46 | 2,76 | 3,40 | 3,66 |
| 30 | 1,31 | 1,70 | 2,04 | 2,46 | 2,75 | 3,39 | 3,65 |
| 35 | 1,31 | 1,69 | 2,03 | 2,44 | 2,72 | 3,34 | 3,59 |
| 40 | 1,30 | 1,68 | 2,02 | 2,42 | 2,70 | 3,31 | 3,55 |
| 45 | 1,30 | 1,68 | 2,01 | 2,41 | 2,69 | 3,28 | 3,52 |
| 50 | 1,30 | 1,68 | 2,01 | 2,40 | 2,68 | 3,26 | 3,50 |
| 60 | 1,30 | 1,67 | 2,00 | 2,39 | 2,66 | 3,23 | 3,46 |
| 80 | 1,29 | 1,66 | 1,99 | 2,37 | 2,64 | 3,20 | 3,42 |
| 100 | 1,29 | 1,66 | 1,98 | 2,36 | 2,63 | 3,17 | 3,39 |
| 200 | 1,29 | 1,65 | 1,97 | 2,35 | 2,60 | 3,13 | 3,34 |
| 500 | 1,28 | 1,65 | 1,96 | 2,33 | 2,59 | 3,11 | 3,31 |
| 1000 | 1,28 | 1,65 | 1,96 | 2,33 | 2,58 | 3,10 | 3,30 |
| 10000 | 1,28 | 1,64 | 1,96 | 2,33 | 2,58 | 3,09 | 3,29 |

EXAMEN

Spécialité ou Option :

ÉPREUVE :

Date de naissance :

Centre d'épreuve :

Date :

N° du sujet choisi (1)
ou repère de l'épreuve

N° ne rien inscrire

N° ne rien inscrire

Copyright © 2026 FormaV. Tous droits réservés.

Ce document a été élaboré par FormaV® avec le plus grand soin afin d'accompagner chaque apprenant vers la réussite de ses examens. Son contenu (textes, graphiques, méthodologies, tableaux, exercices, concepts, mises en forme) constitue une œuvre protégée par le droit d'auteur.

Toute copie, partage, reproduction, diffusion ou mise à disposition, même partielle, gratuite ou payante, est strictement interdite sans accord préalable et écrit de FormaV®, conformément aux articles L.111-1 et suivants du Code de la propriété intellectuelle. Dans une logique anti-plagiat, FormaV® se réserve le droit de vérifier toute utilisation illicite, y compris sur les plateformes en ligne ou sites tiers.

En utilisant ce document, vous vous engagez à respecter ces règles et à préserver l'intégrité du travail fourni. La consultation de ce document est strictement personnelle.

Merci de respecter le travail accompli afin de permettre la création continue de ressources pédagogiques fiables et accessibles.

Copyright © 2026 FormaV. Tous droits réservés.

Ce document a été élaboré par FormaV® avec le plus grand soin afin d'accompagner chaque apprenant vers la réussite de ses examens. Son contenu (textes, graphiques, méthodologies, tableaux, exercices, concepts, mises en forme) constitue une œuvre protégée par le droit d'auteur.

Toute copie, partage, reproduction, diffusion ou mise à disposition, même partielle, gratuite ou payante, est strictement interdite sans accord préalable et écrit de FormaV®, conformément aux articles L.111-1 et suivants du Code de la propriété intellectuelle. Dans une logique anti-plagiat, FormaV® se réserve le droit de vérifier toute utilisation illicite, y compris sur les plateformes en ligne ou sites tiers.

En utilisant ce document, vous vous engagez à respecter ces règles et à préserver l'intégrité du travail fourni. La consultation de ce document est strictement personnelle.

Merci de respecter le travail accompli afin de permettre la création continue de ressources pédagogiques fiables et accessibles.